

المادة: المحاسبة المتوسطة
الدراسات الصباحية والمسائية
التاريخ: 26 / 12 / 2023
الوقت: ساعتان



أسئلة الامتحان النهائي
للفصل الدراسي الاول 2023-2024
الدور (الاول)



جامعة البصرة
كلية الادارة والاقتصاد
قسم العلوم المالية
والمصرفية

ملاحظة: الإجابة عن أربعة أسئلة وتوزع الدرجة بالتساوي، ويمكن للطالب الإجابة بالقلم الصاغر

س1// اختر الإجابة الصحيحة من بين كل مما يأتي:

- 1- المصروف المدفوع مقدما هو احد الاتي:
أ- الذي استحق على الشركة ولم يدفع.
ب- الذي دفع من الشركة خلال السنة الحالية.
ت- الذي دفع فعلا من قبل الشركة لسنة تالية.
ث- لا شيء مما سبق.
- 2- الايراد المستلم مقدما هو احد الاتي:
أ- الذي استلم فعلا خلال السنة السابقة.
ب- الذي استلم فعلا نهاية السنة الحالية.
ت- الذي استلم فعلا عن السنة القادمة.
ث- لا شيء مما سبق.
- 3- الشيكات المعلقة والتي لم تقدم للصرف تمثل الاتي:
أ- شيكات محررة للدائنين.
ب- شيكات مستلمة من المدينين.
ت- لا شيء مما سبق.
- 4- رصيد ايراد العقار 2400 دينار والعقد يبدأ اعتبارا من 5/1 والايراد الشهري 190 دينار، فالجانب الدائن من قيد التسوية يكون.
أ- 120 دينار ايراد عقار.
ب- 880 دينار ايراد عقار مستلم مقدما.
ت- 120 دينار ايراد عقار مستلم مقدما.
ث- لا شيء مما سبق.
- 5- احد التي لا يعد من المبادئ المحاسبية.
أ- الكلفة التاريخية.
ب- تحقق الايراد.
ت- حقوق الملكية.
ث- مقابلة الايرادات.

س2// في 2020/12/31 اظهر ميزان المراجعة قبل التسويات مجموع المصاريف المدفوعة مقدما خلال السنة

مبلغا قدره 8,000,000 دينار، وكانت هذه المصاريف موزعة كالتالي:

- 1- 25% مصاريف اعلان مدفوعة في 2020/1/1 ولمدة 16 شهرا سددت بـصك.
- 2- 35% ايجار مدفوعة في 2020/10/1 ولمدة سنة كاملة سدد نقدا.
- 3- ما تبقى من المبلغ يمثل مصاريف تامين ضد الحريق لمدة سنة مدفوعة بتاريخ 2020/10/1 سدد بـصك.

المطلوب:

- 1- القيود اليومية التي أدت الى ظهور الأرصدة أعلاه.
- 2- اجراء قيود التسوية.
- 3- تصوير حساب الإعلان والاعلان المدفوع مقدما.

س3// فيما يلي البيانات التي امكن الحصول عليها من سجلات شركة البصرة عند تسوية حساب البنك في 2020/1/31:

رصيد حساب البنك في سجلات الشركة 3,563,000 دينار، ورصيد حساب البنك على وفق الكشف الوارد من البنك 5,250,000 دينار فاذا علمت انه قد جرت العمليات الآتية خلال الشهر.

- 1- صكوك معلقة بمبلغ 1،250,000 دينار.
 - 2- حصل البنك ورقة قبض لصالح الشركة بمبلغ 2,000,000 دينار ولم يصل بها اشعار دائن الى الشركة.
 - 3- حصل البنك فوائد سندات لصالح الشركة بمبلغ 500,000 دينار ولم يصل بها اشعار دائن الى الشركة.
 - 4- اكتشف محاسب الشركة انه اخطأ في تسجيل مبالغ الشيكات المحررة للدائنين وكالتالي:
أ- الشيك المرقم 100 سجل خطأ بمبلغ 52,000 دينار والصحيح هو 25,000 دينار للعميل جميل.
ب- الشيك المرقم 110 سجل خطأ بمبلغ 560,000 والصحيح هو 650,000 دينار للعميل خالد.
 - 5- شيك معاد للعميل خليل لعدم كفاية الرصيد 750,000 دينار.
 - 6- سدد البنك ورقة دفع مستحقة على الشركة بمبلغ 1,200,000 دينار.
 - 7- هناك مصارف وعمولات بمبلغ 50,000 دينار استقطعتها البنك من حاب الشركة.
- المطلوب: اعداد مذكرة تسوية كشف البنك.

س4// بتاريخ 2020/5/25 ولدى جرد النقدية في الصندوق في شركة الفيحاء اظهر الجرد ان النقد الفعلي الموجود في الصندوق هو 600,000 دينار، وتبين ان هناك عجز مقداره 100,000 دينار، وبعد مراجعة دفتر اليومية والمستندات تبين ان هناك فاتورة مبيعات سجلت سهوا مرتين بمبلغ 30,000 دينار، اما ما تبقى من المبلغ فهو عبارة عن فاتورة مشتريات سهى المحاسب عن تسجيلها أيضا.

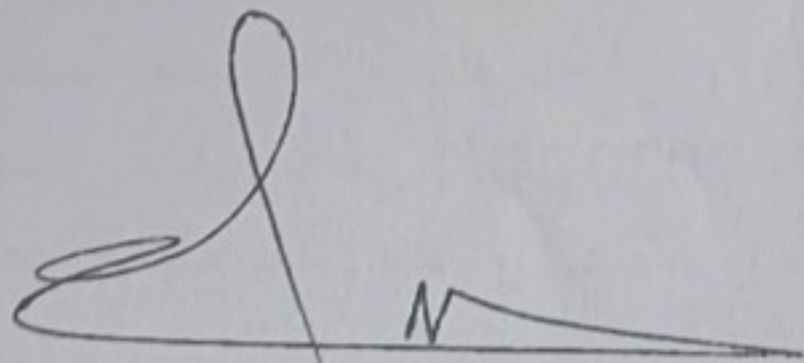
المطلوب: اجراء قيود اليومية اللازمة لمعالجة الحالة أعلاه وتصوير حساب الصندوق.

س5// فيما يلي الحسابات المستخرجة من سجلات شركة الإخلاص وذلك قبل وبعد اجراء التسويات في 2020/12/31.


اسم الحساب	رصيد بعد التسوية	رصيد قبل التسوية
رواتب واجور	240,000	225,000
تامين مدفوع مقدما	122,000	186,000
ايراد عقار	300,000	325,000
مصارييف كهرباء	450,000	400,000

المطلوب: تسجيل قيود التسوية في 12/31

مع تمنياتنا لكم بالنجاح



أ.د. منتظر فاضل سعد
رئيس القسم



م. حسام احمد علي
م.م سلام صدام مهر
مدرسا المادة



Course name: English Second Stag M&Eving Study , Date: 28/12/ 2023, Total Mark: 50 Time: 2 H

Name -----no: -----

Answer just four questions

Q1 : Read the text and then answer the questions (12.5 mark)

Tokyo has a population of 35 million people. It is the largest city in the world. It is also one of the most exciting. Everything moves fast here. It has one of the biggest and busiest railway systems in the world. Every day, 11 million commuters use it to get to and from work. People earn the highest salaries, and they spend the most money. They wear the latest fashions, and have the most up-to-date phones. It is the world's most expensive city. Tokyo was originally a small fishing village called Edo. The name changed in 1868 when the Emperor moved there.

The architecture is very modern. There are not many old buildings because of the 1923 earthquake and the Second World War. But traditional Japan is always near, with many Shinto shrines and public baths around the city. Tokyo is on the east coast of Japan. The summers are hot and humid. The most beautiful time of year is spring, when the famous cherry blossom is on the trees. The city is huge, but it is one of the safest cities in the world. Japan is mysterious. It is difficult for foreigners to understand.

a- Answer in one word .

- 1- The article talks about a country called -----.
- 2- The name of the city was changed to Tokyo after its previous name-----
- 3- The population of Tokyo is-----

b- Chose the right answer :

- 1- Economic characteristics of the population in Tokyo
(a- Highest income and highest consumption b- Higher income and lower consumption c- Lowest income and highest consumption.
- 2- Buildings in Tokyo by age (a- very old b- Modern c- A little old)
- 3- One of the worst things in Japan (a- Wars and earthquakes b- It's a poor country c- There is no industry)

Q2 / Determine if the statement is true or false Then correct the false : (12.5 mark)

- 1- The Iraqi team won the final match. We were happy .
- 2- Adjectives describe nouns while adverbs describe pronouns.
- 3- Put potatoes in the list.
- 4- He published his theory of relativity in 1905 .
- 5- I have nothing to do and nowhere to go. I am so angry .
- 6- (can 5- a little bit 2 -speak 1 – She 4 – Spanish 3) the correct range is 4-5-1-3-2 .

Q3 Translate the text into Arabic (12.5 mark)

- a- When he got to Dover, he saw a French journalist waving a flag. He cut the engine at 60 feet and crashed into a field. The news quickly went round the world, and Mr Bleriot's flight was celebrated in London and Paris. He won a prize of f 1,000.
- b- An American businessman was on a fishing trip in a village in southern Mexico. He met a young fisherman and his small boat.
- c- Oprah was born on January 29, 1954, in Kosciusko, Mississippi. Her parents were very poor. Her father, Vernon, worked in a coal mine and her mother, Vernita, cleaned houses. They couldn't look after Oprah, so she lived with her grandmother, Hattie Mae. Oprah was clever. She could read before she was three. When she was 17, she received a scholarship to Tennessee State University, where she studied drama. She also started reading the news at the local radio station.


Q4 : Choose the correct answer : (12.5 mark)

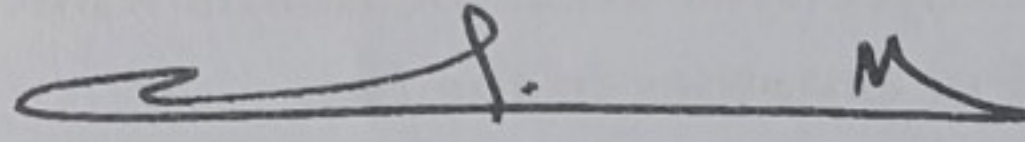
- 1- How many (a- egg's b- butter c- milk) do you need?
- 2 -We do not have much (a- biscuits b-cheese c- potatoes) left.
- 3 -I'm hungry. I'd like (a- sandwich b- bread c- apple) .
- 4 -I'd like (a- a b- some c- any) fruit, please.
- 5- Would you like some(a- tea b- sandwich c- orange)?
- 6 -How many (a- money b- cousins c- family) do you have?
- 7 -We have (a- no b- much c-many) homework today.
- 8- Yesterday was more hot (a- that b- than c- these) today.

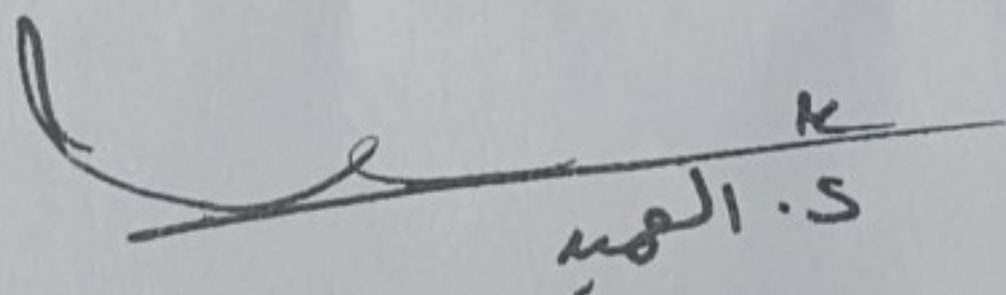
Q5: Choose the correct answer among the options (12.5 mark)

- 1- when did Henry Ford sell the first Model-T motor car.
a- 1908 b- 1903 c- 1910
- 2- nineteen oh five
a- 1950 b- 1905 c- 1900
- 3- The marathon runners were very ---
a- Tired b- tiring c- very tire .
- 4- The news is very -----
a- Worried b- worrying c- worry.
- 5- ----- is the past of do and does .
a- Did b- could c- was
- 6- We lost the match because we played -----
a- Carefully b- badly c- hard

Good Luck


Assist Prof. Dr. Radhi Obaid
Course instructor


Prof. Dr. Muntadar saad Albattat
Head, Department of Finance


S. Al-Mohammed

التاريخ : ٢٠٢٣ / ٩ / ٣١
المادة : القانون التجاري
الوقت : ساعتين



جامعة البصرة
كلية الإدارة والاقتصاد
قسم العلوم المالية والمصرفية



امتحان الكورس الأول
المرحلة الثانية - الدور
2024 - 2023

المورد

ملاحظة: الاجابة عن خمسة اسئلة فقط وتتوزع الدرجات بالتساوي على جميع الاسئلة.

س1: عرف خمسة مما يأتي

الافلاس , السهم , الشخصية المعنوية , شركة التضامن , شركة الاستثمار المالي , العمل التجاري.

س2: اجب عن اثنين مما يأتي

أ- اذكر الآثار القانونية للتسجيل في السجل التجاري.

ب- عدد حالات انقضاء الشركة بموجب قانون الشركات العراقي النافذ.

ت- في حال عدم لم يصل الاككتاب الى نسبة 75% من رأس المال الاسمي للشركة ما هو الاجراء المتبع؟

س3: ميز الاعمال التجارية من الاعمال المدنية مما يأتي مع ذكر السبب (لخمس فقط).

أ- بيع الفلاح لمحاصيل ارضه.

ب- استئجار سيارة من اجل تأجيرها مرة اخرى.

ج- شراء التاجر لساعة ذهبية من اجل اهداءها لصديقه التاجر.

د- العمليات المصرفية.

هـ- بيع صاحب الارض لمحصول ارضه من الزيتون وتحويل القسم الاخر منه الى زيت زيتون وبيعه ايضا.

و- شراء التاجر اثاث لمحله التجاري.

س4: عدد مع الشرح خصائص الاسهم.

س5: ابحث في (الاحتراف) كشرط من شروط اكتساب الشخص لصفة التاجر.

س6: عرف الاككتاب ثم اذكر انواعه, وفي اي الشركات يطبق كلا نوع منه, متى يعتبر الاككتاب ناجح, وفي حال فشل الاككتاب ما هي الاجراءات المتبعة مع الشروط, وهل يحق للمؤسسين ان يكتتبون بأسهم الشركة خلال مدة الاككتاب, مبينا شرط ذلك.

مع تمنياتي لكم بالنجاح

رئيس القسم

أ.د. منتظر فاضل سعد

مدرس المادة

م.م ندى مهدي خلف

١٠٥



جامعة البصرة
كلية الادارة والاقتصاد / قسم العلوم المالية والمصرفية
اسئلة امتحان الكورس الأول
للعام الدراسي ٢٠٢٣-٢٠٢٤
المادة : جرائم البعث



التاريخ : ١٠ / ١ / ٢٠٢٤

المرحلة : الثانية

المادة : جرائم البعث

ملاحظة: الإجابة عن جميع أربعة أسئلة فقط

س ١ / ما هي أهم جرائم البيئة عددها ثم اشرح واحدة منها .

س ٢ / أجب بعلامة (صح) أو (خطأ) ثم صحح الخطأ أن وجد :


- ١- يمثل مفهوم الجريمة أي فعل ينتهك القانون ويعاقب عليه بواسطة النظام القانوني .
- ٢- تم تأهيل الشعب العراقي نفسياً واجتماعياً وفكرياً الى تقبل فكرة التدخل الخارجي .
- ٣- حدثت جريمة قصف حلبجة عام ١٩٨٨ .
- ٤- تمثل الجرائم الاجتماعية الأفعال والتصرفات التي تتعارض مع القيم والمعايير .
- ٥- ظهرت علوم فرعية دقيقة لدراسة الجريمة والمجرم، مثل: علم النفس الإجرامي، وعلم طبائع المجرم .

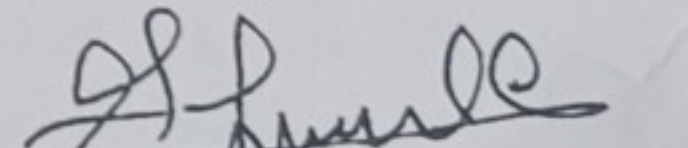
س ٣ / للجرائم النفسية آليات عديدة عدد هذه الجرائم ثم اشرح اثنان منها .


س ٤ / صور انتهاكات حقوق الإنسان وجرائم السلطة عديدة أذكر خمسة منها فقط .

س ٥ / إن الأفعال التي تم ارتكابها في إطار هجوم واسع النطاق هي جرائم ضد الإنسانية اشرح بالتفصيل ذلك .

مع تمنياتي لكم بالنجاح


أ.د. منتظر فاضل سعد
رئيس القسم


م.م. إسراء خيرى عبد
مدرس المادة


س / الم



المرحلة: الثانية
المادة: الإدارة المالية
التاريخ: 2024/1/14
الوقت: ساعتان

جامعة البصرة
كلية الإدارة والاقتصاد
قسم العلوم المالية والمصرفية
الدراسات الصباحية و المسائية

أسئلة امتحانات النهائية الكورس الأول الدور (الاول) للعام الدراسي 2023-2024

ملاحظة : الإجابة عن اربعة اسئلة فقط وبالقلم الجاف .
س1 / هنالك اربعة ادوار ومهام يقوم بها المدير المالي في الشركات المساهمة عددها مع الشرح المفصل.

س2/ توفرت لديك الميزانية العمومية لشركة الصفا الصناعية كما في 2022/12/31 (المبالغ بالآف الديناتير)

المطلوبات وحق الملكية	الموجودات
المطلوبات المتداولة 125000	النقدية 150000
القروض 375000	الحسابات المدينة 75000
اجمالي الديون 500000	المخزون 25000
الاسهم العادية 450000	مجموع الموجودات المتداولة 250000
الارباح المحتجزة 50000	الموجودات الثابتة 750000
مجموع المطلوبات وحق الملكية 1000000	مجموع الموجودات 1000000

المطلوب

- 1- نسبة السيولة السريعة
- 2- نسبة الرافعة المالية
- 3- ROA
- 4- EPS
- 5- معدل فترة التحصيل

معيار الصناعة
نسبة السيولة السريعة 1.25 مره
نسبة الرافعة المالية 45%
ROA 12%
EPS 5.5
معدل فترة التحصيل 35 يوم

علماً أن صافي دخل الشركة 30000 دينار، وصافي المبيعات 90000 دينار

س3/ توفّر لديك كشف الدخل الخاص بشركة المروج الصناعية والمطلوب إجراء التحليل الأفقي.

2021	2020	المفردات
90000000	80000000	الاييرادات (صافي المبيعات)
70000000	65000000	تطرح: تكلفة البضاعة المباعة
20000000	15000000	مجمّل الربح
		تطرح: نفقات التشغيل
400000	500000	البيعية
2600000	3000000	العامة والإدارية
1000000	1000000	اندثار الموجودات الثابتة
3000000	2500000	الايجار
13000000	8000000	EBIT
		تطرح: نفقات الفوائد
500000	250000	فوائد على اوراق الدفع
250000	1250000	فوائد على السندات
12250000	6500000	صافي الدخل قبل الضرائب
4165000	2210000	تطرح: ضريبة الدخل (34%)
8085000	4290000	صافي الدخل

س4/ توفرت لديك قائمة المركز المالي لشركة البصرة الصناعية والمطلوب اعداد كشف مصادر واستخدامات الامول
 علماً ان صافي دخل الشركة 13332 دينار والارباح الموزعة 5200 دينار.

2020	2019	البيان
5000	6000	النقدية
2000	2600	الاستثمارات القابلة للتداول
32000	24000	المدينون
41000	37400	المخزون
80000	70000	مجموع الموجودات المتداولة
120600	106400	اجمالي الموجودات الثابتة
36600	34400	الاندثارات
84000	72000	صافي الموجودات الثابتة
164000	142000	مجموع الموجودات
14400	12000	حسابات دائنة
11000	14000	اوراق دفع
1800	1400	مستحقات
6000	6000	ديون طويلة الاجل مستحقة
2800	2400	مطلوبات متداولة اخرى
36000	35800	مجموع المطلوبات المتداولة
54000	60000	سندات
13000	10000	الأسهم العادية
27368	10700	فضلة رأس المال
33632	25500	الأرباح المحتجزة
162000	142000	مجموع المطلوبات وحق الملكية

- س5/ من المعلومات الاتية اكمل الميزانية العمومية التالية.
- 1- نسبة حق الملكية إلى مجموع الموجودات 40%، علماً ان حق الملكية 100000 دينار
 - 2- نسبة الحسابات الدائنة إلى مجموع المطلوبات 40%
 - 3- القروض طويلة الأجل = الحسابات الدائنة
 - 4- نسبة المستحقات إلى القروض طويلة الأجل 50%
 - 5- نسبة الموجودات الثابتة إلى مجموع الموجودات 50
 - 6- دوران الحسابات المدينة 10 مرة
 - 7- المخزون يشكل ضعف الحسابات المدينة
 - 8- دوران الحسابات المدينة 10 مرة
 - 9- علماً ان صافي المبيعات 600000 دينار

المطلوبات	الموجودات
الحسابات الدائنة	النقدية
المستحقات	الحسابات المدينة
قروض طويلة الأجل	المخزون
مجموع المطلوبات	مجموع الموجودات المتداولة
حق الملكية	الموجودات الثابتة
مجموع المطلوبات وحق الملكية	مجموع الموجودات

رئيس القسم
 أ.د. منتظر فاضل سعد

مع تمنياتي لكم بالتوفيق

أ.م.د. محمد جاسم محمد

مدرس المادة

المادة: الرياضيات المالية

المرحلة: الثانية

التاريخ: ٢٠٢٤ / ١ / ٨

الوقت: ساعتين



وزارة التعليم العالي والبحث العلمي

جامعة البصرة

كلية الادارة والاقتصاد

قسم العلوم المالية والمصرفية

الدراسة الصباحية والمسائية

اسئلة الامتحان النهائي الكورس الاول (الدور الاول) للعام 2024/2023

$$t_1 = t - t^*$$

$$t_0 = 0$$

ملاحظة: الاجابة عن اربعة اسئلة فقط وتوزع الدرجات بالتساوي

س1 // يودع شخص مبلغ معين لدى مصرف في نهاية كل اربعة أشهر ولمدة عامين بمعدل

فائدة 12 % سنوياً، فإذا علمت ان رصيد الشخص في نهاية المدة كان 3300 دولار، فكم كان

يودع لدى المصرف؟

$$TP = (C \times n) \times r \times \frac{n}{2} \times (t_1 - t_0)$$

س2 // اقترض شخص مبلغ 4000 دولار بمعدل فائدة 6% سنوياً متعهداً بسداده مع فوائده

بعد عشرة أشهر لكنه لم يتمكن من تسديده في موعده المحدد فتقدم بطلب تأجيل السداد إلى

نهاية العام فتحمل فوائد تأجيل بمعدل 9 % سنوياً، ما هو المبلغ الواجب السداد في نهاية العام؟

س3 // ما هو رصيد شخص في 15 / 7 / 2020 إذا علمت انه في 23 / 9 / 2019 أودع مبلغ

6000 دولار لدى مصرف يعتمد معدل فائدة 7 % سنوياً وذلك بالاعتماد على الفائدة التجارية؟

س4 // يودع شخص مبلغ 500 دولار لدى مصرف في بداية كل ثلاثة أشهر ولمدة عامين

ونصف بمعدل فائدة 10 % سنوياً، فيما يسحب مبلغ 100 دولار في نهاية كل شهر ولمدة

عامين ونصف كذلك. ما هو رصيد هذا الشخص في نهاية المدة إذا علمت ان معدل الفائدة

للسحب 4 % سنوياً؟

س5 // استثمر شخص مبلغان مجموع فائدتها 570 \$ فإذا علمت ان المبلغ الاول ضعف

المبلغ الثاني وأنه أودع المبلغ الاول لمدة أربع سنوات بمعدل فائدة 6% سنوياً فيما أودع المبلغ

الثاني لمدة ثلاث سنوات ونصف بمعدل فائدة 8% سنوياً. جد مقدار كل من المبلغين وما هي

الفائدة المتحققة من كل مبلغ؟

مع تمنياتنا لكم بالنجاح والموفقية

أ.د. منتظر فاضل سعد

رئيس القسم

أ.م.د. عقيل عبد محمد عباس

مدرس المادة

م.م. عبدالله محمد راضي

مدرس المادة

١٠٤

المرحلة: الثانية
المادة: مالية عامة
التاريخ: ١٠ / ١ / ٢٠٢٣
الوقت: ساعتان



جامعة البصرة
كلية الادارة والاقتصاد
قسم العلوم المالية والمصرفية
الدراسات الصباحية والمسائية

أسئلة الامتحان النهائي الكورس الأول
للعام الدراسي 2023-2024

الدور الأول

الاسم: ك.ا.م. هادي صالح حنوش الرقم: الشعبة:
ملاحظة: اجب عن اربعة أسئلة فقط لكل سؤال (12.5 درجة)

س ١: توفرت لديك البيانات التالية:

$$C = 10 + 0.4 y \quad , \quad I = 8 + 0.2 y$$

المطلوب ما يلي:

- ١- جد مقدار الدخل التوازني.
- ٢- جد مقدار التغير بالدخل اذا علمت ان $(G = 2)$ ومفسراً النتيجة.
- ٣- جد مقدار الدخل التوازني اذا علمت ان $(T = 4)$ مع تفسير النتيجة.
- ٤- جد مضاعف الضريبة.
- ٥- اثبت ان قيمة مضاعف الموازنة المتوازنة يساوي الواحد الصحيح.

س ٢: أ- كيف تمارس الدولة تأثيرها في التوزيع الأولي للدخل القومي.

ب- اذكر أهم أشكال المقدرة المالية القومية، وضحها بالتفصيل.

س ٣: قارن بين كل مما يأتي:

١- هدف المالية العامة في الفكر التقليدي وفي الفكر الحديث.

٢- الضريبة و الرسم.

٣- الدومين العام والدومين الخاص.

٤- القرض العام والضريبة.

س ٤: عرف القرض العام وما هي خصائصه، مع بيان أهم أنواع القروض المؤقتة.

س ٥: ما هي سمات الموازنة العامة؟ مع توضيح طبيعة الموازنة.

أرجوكم التوفيق

أ.د. منتظر فاضل سعد
رئيس القسم

م.م. اسيا علي هادي
مدرس المادة

أ.م. د. مهدي صالح حنوش
مدرس المادة

المرحلة : الثانية
المادة : الحاسبات
التاريخ : 13 / 1 / 2024
الوقت : ساعتين



جامعة البصرة
كلية الادارة والاقتصاد
قسم العلوم المالية والمصرفية
الدراسات الصباحية والمسائية

أسئلة الامتحان النهائي للعام الدراسي 2024/2023

الكورس الاول / الدور الاول

ملاحظة: الأجابة على خمسة أسئلة فقط (توزع الدرجة بالتساوي)

س1/ وضح المفاهيم والمصطلحات التالية:

1- نظام قواعد البيانات 2- عزل البيانات 3- الملفات العشوائية 4- المعلومات

س2/ اختر الأجابة الصحيحة:

1- يتم من خلال لغة تعريف قواعد البيانات

➤ القيام بتعريف الجداول

➤ تعريف العلاقات بين الجداول

➤ تعريف الجداول الافتراضية

➤ جميع ما ذكر

2- نقصد بمفهوم معالجة قواعد البيانات هو

➤ استرجاع البيانات من قواعد البيانات

➤ اضافة البيانات الى قواعد البيانات

➤ حذف البيانات من قواعد البيانات

➤ جميع ما ذكر

3- من الأهداف التي وجدت من أجلها أنظمة قواعد البيانات

➤ عزل البيانات عن البرامج

➤ دعم المعالجة المتعددة للمستخدمين

➤ توفير الأمن والحماية للبيانات

➤ جميع ما ذكر

4- يقصد بتعريف قواعد البيانات

➤ تحديد انواع البيانات

➤ تحديد العلاقات بين الملفات في تركيب قواعد البيانات

➤ محددات قواعد البيانات

➤ جميع ما ذكر

5- يقصد بالعمليات الاساسية

➤ استرجاع البيانات

➤ اختيار البيانات

➤ توزيع البيانات

➤ جميع ما ذكر

س3/ قارن بين أنظمة معالجة البيانات التقليدية وأنظمة قواعد البيانات من حيث:

➤ الوصول الى البيانات

➤ تمثيل البيانات لواقع المؤسسة

س4/ وضح الوظائف الاساسية لنظام معالجة البيانات

س5/ وضح مساوي استخدام أنظمة قواعد البيانات

س6/ ما هي الاسباب التي تؤدي الى تكرار البيانات في أنظمة معالجة البيانات التقليدية

مع تمنياتي لكم بالنجاح

أ.د. منتظر فاضل سعد
رئيس القسم

أ.م. حيدر صلاح هاشم
مدرس المادة

١.٥

المرحلة: الثانية
المادة: نقود ومصارف
التاريخ: ١٤ / ١ / ٢٠٢٤
الوقت: ساعتين



جامعة البصرة
كلية الادارة والاقتصاد
قسم العلوم المالية والمصرفية
الدراسات الصباحية والمسابية

أسئلة الامتحان النهائي للكورس الأول الدور (الأول) العام الدراسي 2023 – 2024

الرقم

اسم الطالب

ملاحظة: الإجابة عن أربع أسئلة فقط وتوزع الدرجات بالتساوي بين الأسئلة

السؤال الأول: حدد إذا كانت العبارة صحيحة أم خاطئة ثم صحح الخطأ إن وجد .

- 1- تستخدم النقود كأرصدة نقدية في المستقبل لمواجهة المرض والشيخوخة وفقدان العمل أو توظيفها في سوق الأوراق المالية.
- 2- يستطيع البنك التجاري نقل الفائض من موارده النقدية الى البنك المركزي وذلك عندما يكون الإيداع اكبر من السحب.
- 3- تفرض البنوك التجارية على القروض الممنوحة لبنك اخر سعر فائدة موازي او اقل من سعر الفائدة المفروض من البنك المركزي.
- 4- يستطيع البنك المركزي من خلال الاحتياطي النقدي التحكم في سيولة البنوك التجارية وقدرتها الاقراضية ومن ثم التأثير في عرض النقد.
- 5- تتمتع الودائع الادخارية بسيولة عالية وذلك لامكانية السحب عليها عند الطلب بشكل مباشر او من خلال الصكوك.
- 6- القيمة النقدية للنقود المساعدة اقل من قيمة المعدن الذي صنعت منه.
- 7- يمكن التحكم في عرض النقد من خلال مراقبة السلطات النقدية للاساس النقدي M1.
- 8- يمكن استخدام النقود الورقية في إتمام عمليات البيع والشراء والدفع عبر الانترنت.

السؤال الثاني: اختر الإجابة الصحيحة من بين الخيارات .

- 1- اذا علمت ان حجم المعاملات في اقتصاد دولة نامية هو 48 مليار دولار وكمية النقد في التداول هو 172 مليار دولار ، في المقابل كان حجم المعاملات في اقتصاد دولة متقدمة هو 69 مليار دولار وكمية النقد في التداول تبلغ 328 مليار دولار . فان سرعة دوران المعاملات في الدولة النامية وسرعة دوران المعاملات في الدولة المتقدمة هي
أ- 3.5 مرات ، 4.7 مرات ب - 3 مرات ، 4.5 مرات ج - 4 مرات ، 3.7 مرات د- لا شيء مما ذكر
- 2- اذا علمت ان صافي العملة في التداول يبلغ 56 مليار دينار وان حجم الودائع الادخارية في البنوك التجارية يبلغ 14 مليار وكان حجم الودائع الجارية في البنوك التجارية 16 مليار واذا علمت ان الادخارات المودعة خارج البنوك التجارية تبلغ 8 مليار . فان $M2 =$
أ- 76 مليار ب - 86 مليار ج- 70 مليار د - لا شيء مما ذكر
- 3- ضمن نفس المعطيات في النقطة 2 فان مفهوم عرض النقد الضيق يساوي
أ - 72 مليار ب - 70 مليار ج - 86 مليار د- لا شيء مما سبق
- 4- اذا كان هناك بافتراض ان هناك مجتمع يعمل وفق نظام المقايضة ويبلغ عدد السلع المتاحة للتبادل 12 سلعة فان عدد الأسعار النسبية لجميع السلع التي يتم تبادلها في هذا المجتمع تكون : (أ- 120 سعر ب- 12 سعر ج- 1200 سعر د- لا شيء مما ذكر)
- 5- يقصد بأشباه النقود

أ- مجموعة من الأصول المالية الفاعلة للتحويل الى وسائل دفع بسرعة وسهولة

ب- نقود خاصة بالمصارف التجارية

ج- تمثل قيود محاسبية في سجلات المصارف التجارية

6- يمكن التحكم في عرض النقد من خلال مراقبة السلطات النقدية الى

ا- عرض النقد M1

ب- الأساس النقدي M0

ج- عرض النقد M3

7- من معايير تحديد درجة السيولة

ا- كلفة المعاملات

ب- كلفة الودائع

ج- كلفة الثروة

8- العلاقة بين سعر الفائدة والسندات (تفضيل السيولة) هي علاقة .

ا- طردية ب - عكسية ج - لا نهائية د- لا توجد علاقة .

السؤال الثالث : اجب عما يأتي :

1- اشرح بالتفصيل العوامل المؤثرة في سرعة دوران النقود

2- ما هي العلاقة بين النقود والسيولة ؟ وما هي العلاقة بين النقود والثروة ؟

السؤال الرابع : تحدث بشكل مفصل عن الأنظمة النقدية التالية (نظام المقايضة - نظام المعدنين - نظام المعن الواحد - قاعدة النقد الورقي الالزامي) .

السؤال الخامس : اجب عما يأتي :

1- ما هو مفهوم المصرف التجاري ؟ وما هي وظائف المصرف التجاري ؟

2- حلل ميزانية المصرف التجاري من خلال جانبي الموجودات و المطلوبات

تمنياتنا لكم بالنجاح

أ.د. منتظر فاضل سعد

رئيس القسم

أ.م.د. راضي عبيد نعيمش ، أ.م.د. احمد جبر السالم

مدرسا المادة

والله